

Олимпиада по математике 1 класс

Рекомендуемое время выполнения – 30 минут.

1. Подбери варежке пару.



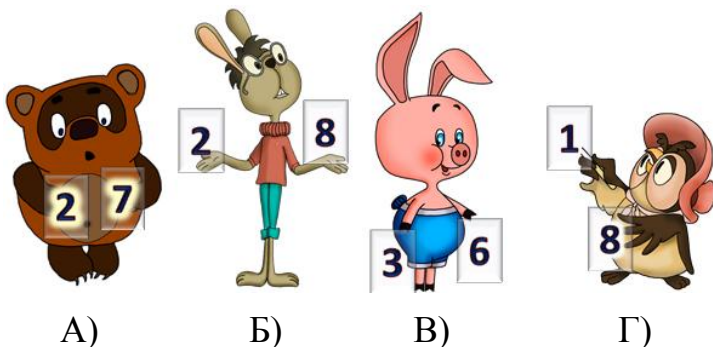
А) Б) В) Г)

2. Сколько на ёлке игрушек не треугольной формы?

А) 6 Б) 5
В) 4 Г) 3



3. Кто из друзей неправильно показывает состав числа 9?



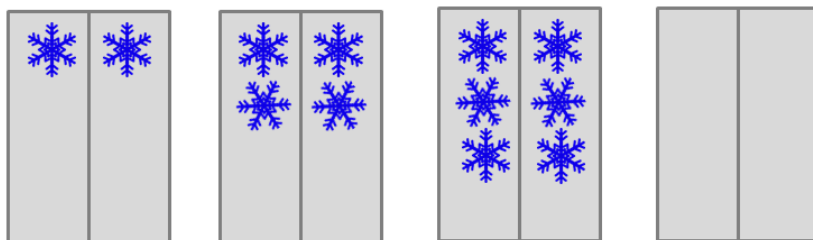
А) Б) В) Г)

**4. Две маленькие кошки сидели на окошке.
На всех лапках у кошек – мягкие сапожки.
Сколько сапожек у двух маленьких кошек?**

А) 2 Б) 4
В) 6 Г) 8




5. Сколько снежинок должно быть на четвёртом окне?



- А) 7 Б) 8
В) 9 Г) 10

6. На окошке был написан пример. Какое число прикрыла снежинка?



- А) 1 Б) 2
В) 3 Г) 4

7. Три оленя везли сани с Дедом Морозом. Каждый олень бежал 1 час. Сколько времени везли олени сани с Дедом Морозом?

- А) 1 ч Б) 2 ч
В) 3 ч Г) 4 ч



8. В какой паре картинок можно в пустую клеточку поставить знак « = »?

А)

Б)

В)

Г)

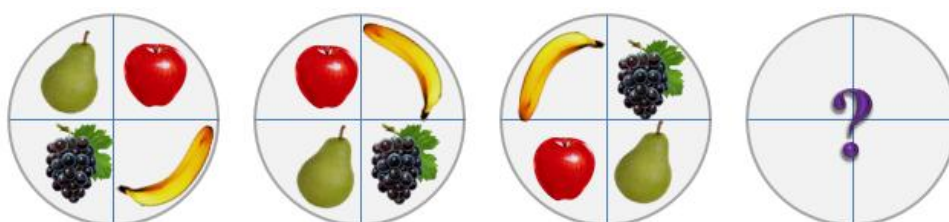
9. В первой таблице запиши ответы примеров. Перенеси буквы из неё во вторую таблицу. Что получилось?

$5 - 4$		в
$7 - 3$		й
$2 + 3$		о
$4 + 2$		н
$2 + 1$		д
$6 + 2$		ы
$5 + 4$		о
$5 - 3$		г

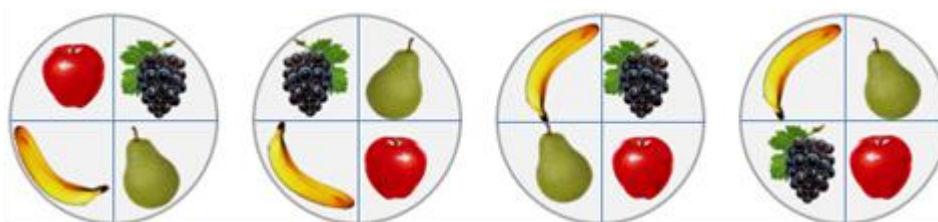
6	9	1	8	4	2	5	3

- А) отличник
- Б) задание
- В) Новый год
- Г) годовой

10. Посмотри на расположение фруктов на трёх тарелочках. Как надо расположить фрукты на четвёртой тарелке?



Выбери один из предложенных вариантов.



А)

Б)

В)

Г)